


3º ESO. TPR SISTEMA DIÉDRICO

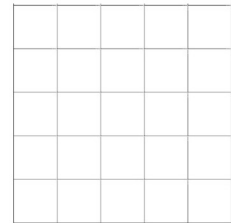
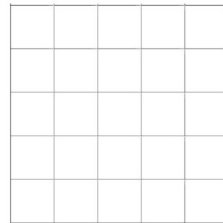

Vistas de una pieza: ALZADO, PLANTA y Perfil IZQU.

Nombre : _____ Curso: _____

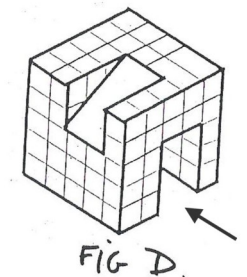

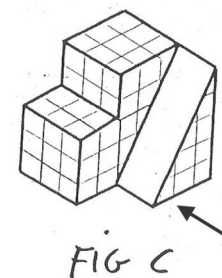





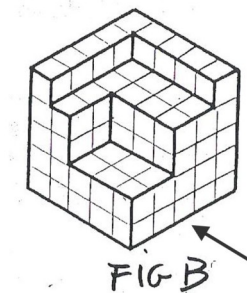

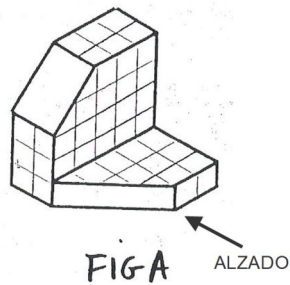

- 1) (5 p) **Dibuja a LÁPIZ y con REGLA**, el alzado, la planta y el perfil izquierdo de las 4 piezas. La flecha indica el alzado.

ALZADO

PERFIL IZQUIERDO

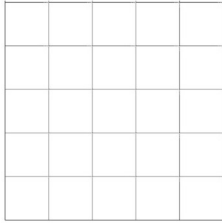


PLANTA

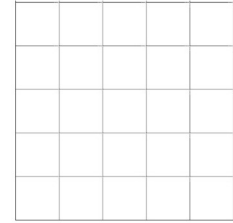
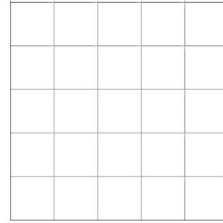
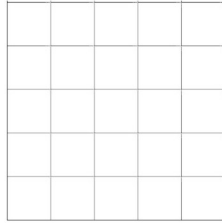


- 2) (5 p) **Dibuja a LÁPIZ y con REGLA**, el alzado, la planta y el perfil izquierdo de las 4 piezas. La flecha indica el alzado.

ALZADO



PERFIL IZQUIERDO



PLANTA

